



T.C.
MİLLÎ EĞİTİM BAKANLIĞI
EĞİTİM TEKNOLOJİLERİ GENEL MÜDÜRLÜĞÜ
ÖLÇME DEĞERLENDİRME VE AÇIKÖĞRETİM KURUMLARI DAİRE BAŞKANLIĞI

TED ANKARA KOLEJİ VAKFI ÖZEL İLKÖĞRETİM OKULU
4. SINIF TESTİ (4. sınıfta öğrenim görecekler)
30 HAZİRAN 2007 Saat: 14.00

Adayın Adı ve Soyadı :

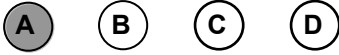
Aday Numarası :

DİKKAT: 1. Salon sorumluları, adaylara test kitapçıklarını kontrol ettirecekler ve baskı hatası olan kitapçıkları, sınav başlamadan önce **mutlaka değiştireceklerdir**.
2. Salon sorumlularından biri, test kitapçığının ön ve arka yüzünü yüksek sesle okuyacak, adaylara da kendi kitapçıklarından takip ettirecektir.

CEVAP KAĞIDI İLE İLGİLİ AÇIKLAMA

1. Cevap kağıdı üzerine yazacağınız yazı ve yapacağınız işaretlemelerde kurşun kaleminden başka hiçbir kalem kullanmayınız.
2. Size verilecek olan cevap kâğıdına, kimliğinizle ilgili bilgileri, salon başkanının açıklamalarına göre yazınız.
3. Cevaplarınızı cevap kâğıdına aşağıdaki örnekte olduğu gibi yuvarlağı, dışına taşımadan işaretleyiniz. Yanlış karalamalarınızı düzeltirken yuvarlağın içini temizce siliniz.

ÖRNEK KODLAMA:



TEST KİTAPÇIĞI İLE İLGİLİ AÇIKLAMA

1. Bu test kitapçığında **TÜRKÇE testinde 25, MATEMATİK testinde 25, HAYAT BİLGİSİ testinde 25** olmak üzere toplam **75** soru bulunmaktadır. Testin tamamı için verilen cevaplama süresi **75 dakikadır**.
2. Her sorunun dört seçeneği vardır. Dört seçenekten sadece bir tanesi doğru cevaptır. Doğru bulduğunuz seçeneği cevap kâğıdında o soru için ayrılan yerde bularak işaretleyiniz.
3. Size ayrı bir karalama kâğıdı verilmeyecektir. Test kitapçığınızın içindeki boş alanları karalama yapmak için kullanabilirsiniz.
4. Cevabını bilmediğiniz sorular üzerinde fazla zaman kaybetmeden diğer sorulara geçiniz. Zamanınız kalırsa bu sorulara daha sonra dönebilirsiniz.
5. Değerlendirmede şans başarısından arındırılmış net puanlar hesaplanacaktır. Bu hesaplamada **3 yanlış 1 doğruyu götürmektedir**.
6. Sınavın bitiminde cevap kâğıdınızı ve soru kitapçığınızı salon sorumlularına teslim etmeyi unutmayınız.

Arka kapağa geçiniz

BAŞLAYINIZ DENİLMEDEN TEST KİTAPÇIĞINI AÇMAYINIZ.

1. “a, ı, i, k, l, r, ş, t” harfleriyle aşağıdaki kelimelerden hangisi yazılabilir?

- A) Akıntı B) Alışkın
C) Atılım D) Arılık

2. Aşağıdaki kelimelerden hangisi hecelerine doğru olarak ayrılmıştır?

- A) Bo - ta - n - ik B) Ek - on - omi
C) O - tu - zun - cu D) Öğ - ren - im

3. Aşağıdaki sözcükler alfabetik sıraya göre dizildiğinde hangisi sonda yer alır?

- A) Gezi B) Teknik
C) Oyun D) İleri

4. Ak, cevap, kara, yanıt, siyah, soru, beyaz” sözcükleri kendi aralarında eş anlamlılarıyla eşleştirildiğinde hangisi açıkta kalır?

- A) Ak B) Beyaz
C) Yanıt D) Soru

5. Aşağıdakilerin hangisinde karşıt anlamlı sözcükler birlikte verilmemiştir?

- A) Kalem - silgi B) Yukarı - aşağı
C) Eski - yeni D) Gece - gündüz

6. “Yüz” sözcüğü aşağıdakilerin hangisinde “İnsanların yüzüne sevgiyle bakabilmeliyiz.” cümlesindeki anlamıyla kullanılmıştır?

- A) Birden yüze kadar saymayı biliyordu.
B) Elini yüzünü yıkayıp sofraya oturdu.
C) Yüzmeyi öğrendiği için havalara uçuyordu.
D) Bu gördüğünüz çınar, en az yüz yaşındadır.

7. “Çiçek” kelimesi, aşağıdaki eklerden hangisini alırsa “çiçek satan” anlamını kazanır?

- A) - lik B) - li C) - çi D) - siz

8. Çoban, güneş ışıklarının beyaz duvarları aydın-

lattığını görünce koyunları otlatma vaktinin geldiğini düşündü.

Bu cümlede, aşağıdaki sözcüklerden hangisi bir varlığı nitelemiştir?

- A) Otlatma B) Güneş
C) Koyun D) Beyaz

9. Çocuklar, öğlenleri bahçede voleybol oynarlar.

Bu cümlede aşağıdaki sorulardan hangisinin cevabı yoktur?

- A) Nerede? B) Ne zaman?
C) Ne? D) Nasıl?

10. Arslan, şanına yakıştıramıyordu kurt ve tilkiyle ava gitmeyi onlara yardım olsun diye kabul etmişti birlikte avlanmayı.

Bu cümlede boş bırakılan yere aşağıdakilerden hangisi getirilmelidir?

- A) fakat B) çünkü
C) ki D) bile

11. Aşağıdakilerden hangisi gerçek yaşamdan alınmıştır?

- A) Ağaçlar birlikte yaşamaktan mutluymuş.
B) Ağaçlar, keçilerle anlaşmaya varmış.
C) Ağaçlar rüzgârın etkisiyle iyice eğilmiş.
D) Ağaçlar, kırlangıcın sözlerine öfkelenmiş.

12. Şimdi, adanın en güzel plajında güneşlenmekte olan bu beyefendi, buraya ilk vapurla gelmediği-ne göre

Bu cümle aşağıdakilerin hangisiyle tamamlanır?

- A) adada oturan biridir.
B) yabancı bir turisttir.
C) adanın değerini bilmiyordur.
D) sonraki vapuru bekliyordur.

13. 1. alıp

2. çekmeceye
3. gittim
4. koydum
5. mektubu
6. odama
7. ve

Numaralandırılmış sözcüklerle anlamlı bir cümle oluşturmak için sıralama nasıl olmalıdır?

- A) 5 - 1 - 6 - 3 - 7 - 2 - 4
- B) 7 - 1 - 6 - 4 - 2 - 5 - 3
- C) 2 - 6 - 1 - 5 - 3 - 7 - 4
- D) 6 - 5 - 2 - 3 - 7 - 1 - 4

14. Aşağıdaki bilmecelerden hangisinin cevabı “güneş”tir?

- A) Ben giderim o gider.
Peşimde tin tin eder.
- B) Beyaz saray içinde
Sarı sultan oturur.
- C) Ateşe girer yanmaz,
Suya düşer ıslanmaz.
- D) Denizi var suyu yok,
Dağı var ormanı yok.

15. Dayımızın erkek kardeşi bizim neyimiz olur?

- A) Amcamız
- B) Dedemiz
- C) Babamız
- D) Dayımız

16. Aşağıdakilerin hangisinde sebep ve sonuç birlikte verilmiştir?

- A) İleride daha güzel şiirler yazacağınıza inanıyorum.
- B) Gözyaşlarımı göstermemek için başımı çevirdim.
- C) Haftalardır karşımda sessiz sessiz oturuyordu.
- D) Babası ile ağabeyi evden çıkmak üzereydi.

17. Aşağıdaki cümlelerin hangisinde “bir koşul gerçekleşse de istenilen sonuca ulaşılamayacağı” anlamı vardır?

- A) Çok işi olsa da bizi ihmal etmez.
- B) Kırılsa da kimseye belli etmez.
- C) Parası yetse de gereksiz şeyler almaz.
- D) Gece-gündüz çalışsa da bu işi bitiremez.

18. Aşağıdaki cümlelerin hangisinde koşul anlamı vardır?

- A) Sağlıklı olmak için spor yapmak gerekir.
- B) Dengeli beslenmek vücuda yararlıdır.
- C) Sigara, insan ömrünü kısaltır.
- D) Sağlık her şeyden önemlidir.

19. Aşağıdaki cümlelerin hangisinde “özlem” vardır?

- A) Arkadaşlarla okul yıllarından söz ettik.
- B) Eskiden hava daha soğuk olurdu.
- C) Önceki evimizde geçen günleri arıyoruz.
- D) Uzun süre trenin gelmesini bekledik.

20. Aşağıdaki cümlelerin hangisinde “beğenme ve şaşma” söz konusudur?

- A) Bu kadar etkili konuşacağını sanmıyordum.
- B) Ona da böyle ince davranmak yakışırdı.
- C) Bu bahar çiçekler daha güzel kokuyor.
- D) Konuğumuz temiz ve şık giyimli bir gençti.

21. 1. Seyis geldiğinde gözlerine inanamadı.

2. Seyis, atı serbest bıraktı.

3. Çünkü etrafta hiç ot kalmamıştı.

4. İki adımda bir durup otları yedi.

5. Dört bir yanın taze otlarla dolu olduğunu gördü.

6. Başboş kaldığını fark eden at, etrafına bakınmaya başladı.

Numaralandırılmış cümlelerle anlamlı bir paragraf oluşturmak için sıralama nasıl olmalıdır?

- A) 3 - 1 - 2 - 5 - 4 - 6
- B) 4 - 3 - 1 - 2 - 5 - 6
- C) 2 - 6 - 5 - 4 - 1 - 3
- D) 1 - 5 - 4 - 6 - 3 - 2

22. Karga, tohumdan çöpe kadar birçok şeyi yer. Yalnızca kendi bulduklarını değil, arkadaşlarının yiyeceklerini de kapıp yemeyi çok sever. Ayrıca kargalar gözü pek hayvanlardır. Yırtıcı kuşlara korkusuzca yaklaşırlar. Bununla da kalmayıp onlara sataşırlar.

Parçaya göre, kargayla ilgili olarak aşağıdakilerden hangisi söylenemez?

- A) Farklı yiyeceklerle beslendikleri
- B) Başkalarına saygılı olduğu
- C) Açgözlülük ettiği
- D) Tehlikelere aldırmadığı

23. Beyaz, yeşil, siyah, sarı
O incecik kanatları;
Çimende bir menekşeye
Açar ipekli şemsiye.

İ. A. Gövsa

Şiirin konusu aşağıdakilerden hangisidir?

- A) Şemsiye
- B) Menekşe
- C) Kelebek
- D) Papatya

24. Çoğu kez düşündüklerimizle yazdıklarımız arasında uçurum vardır. Sık sık “Ben bunu anlatmak istememiştim.” dediğimiz olur.

Paragrafta anlatılmak istenen aşağıdakilerden hangisidir?

- A) Düşünceler yazıya aktarıldığında kalıcı olur.
- B) Düşüncelerin yazılı olarak anlatılması güçtür.
- C) Yazılı anlatımın kuralları vardır.
- D) Yazılı anlatım etkili bir ifade biçimidir.

ancak bilgi ile olur. Yaşam boyu gerekli olan bilgi ve becerilerin temeli ilköğretimde atılır. İlköğretim Haftası, okuma yazma öğrenmenin kişiye ve topluma sağladığı yararların anlatıldığı bir haftadır.

Bu parçada aşağıdaki sorulardan hangisinin cevabı yoktur?

- A) Çağdaş uygarlık düzeyine nasıl ulaşılır?
- B) İlköğretime kaç yaşında başlanır?
- C) Bilgi ve becerilerin temeli nerede atılır?
- D) İlköğretim Haftası’nda ne anlatılır?

TÜRKÇE TESTİ BİTTİ.
MATEMATİK TESTİNE GEÇİNİZ.

25. Çağdaş uygarlık düzeyinin üstüne çıkabilmek,

1. 30 onluk 8 birlikten oluşan sayı aşağıdakilerden hangisidir?

- A) 38 B) 138 C) 183 D) 308

2. 740, 708, 704, 742 doğal sayılarının en büyüğü ile en küçüğü arasındaki fark kaçtır?

- A) 34 B) 36 C) 38 D) 40

3. 16'dan başlanarak ileriye doğru sekiz sekiz ritmik sayıldığında dokuzuncu söylenen sayı kaçtır?

- A) 80 B) 86 C) 88 D) 96

4. 4, 0, 7 rakamları her sayıda bir kez kullanılarak, 700'den büyük en fazla kaç tane doğal sayı yazılabilir?

- A) 1 B) 2 C) 3 D) 4

5. Verilen toplama işlemindeki boş kareler içine yazılacak rakamların sayı değerleri toplamı kaçtır?

$$\begin{array}{r} \square \square 6 \\ + 3 4 \square \\ \hline 8 3 8 \end{array}$$

- A) 14 B) 15 C) 16 D) 17

6. 367 ve 552 sayıları en yakın onluğa yuvarlanarak toplandığında toplam kaç olur?

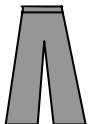
- A) 900 B) 910 C) 920 D) 930

7. Verilen çıkarma işlemindeki çıkan sayı 15 eksik olsaydı, bulunan fark kaç olurdu?

$$\begin{array}{r} 72 \\ - 24 \\ \hline 48 \end{array}$$

- A) 33 B) 57 C) 63 D) 75

8.



Pantolon
35 YTL



Kazak
30 YTL



Çanta
32 YTL



Etek
38 YTL

Bir mağazadaki pantolon, kazak, çanta ve etek fiyatları yukarıda verilmiştir. Bu mağazadan alışveriş yapacak olan Zeynep'in 80 YTL'si vardır. Aşağıdakilerden hangisinde verilenleri alırsa, Zeynep'in daha çok parası kalır?

- A) Pantolon ve kazak
B) Kazak ve çanta
C) Pantolon ve etek
D) Etek ve çanta

9. Aşağıdaki çarpma işlemlerinden hangisinin çarpımı en büyüktür?

- A) 4×100 B) 44×10
C) 10×35 D) 100×3

10. Yarısı 124 olan sayının 2 katı kaçtır?

- A) 62 B) 124 C) 248 D) 496

11. 4 çocuğun bugünkü yaşları toplamı 35'tir. Kaç yıl sonra bu 4 çocuğun yaşları toplamı 43 olur?

- A) 2 B) 4 C) 6 D) 8

12.

İçecek çeşitleri	Şişe sayısı
Su	12
Meyve suyu	24
Gazoz	20
Ayran	16

Bir kantincinin bir günde sattığı içecekler ve sayıları yukarıdaki tabloda verilmiştir. Bu kantinde su 1 litrelik şişelerde, meyve suyu, gazoz ve ayran ise yarım litrelik şişelerde satılmaktadır. Tabloya göre, kantinci bir günde kaç litre içecek satmıştır?

- A) 36 B) 38 C) 42 D) 72

13. Verilen bölme işleminde bölüm ile kalanın toplamı kaç olur?

$$83 \overline{) 4}$$

- A) 2 B) 5 C) 17 D) 23

14. 3 kg fındık 24 YTL'dir. Bu fındığın yarım kilogramı kaç YTL'dir?

- A) 4 B) 8 C) 10 D) 12


15. Serkan yarım düzine kaleme 60 YTL ödemiştir. Aynı kalemlerden 3 tane alan Serkan kaç YTL öder?

- A) 30 B) 32 C) 36 D) 40

16. Elif, içinde 19 litre su olan damacanadan 8 şişe su alıyor. Bir şişe yarım litre su aldığına göre, bidonda kaç litre su kalmıştır?

- A) 11 B) 12 C) 14 D) 15

17.

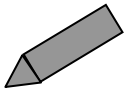


Eş karesel bölgelere ayrılmış yukarıdaki kâğıdın üç parçası boyanmıştır. Kaç parça daha boyanırsa, bu kâğıdın yarısı boyanmış olur?

- A) 4 B) 5 C) 8 D) 9

18. Aşağıdaki geometrik cisimlerden hangisi en fazla yüze sahiptir?

A)



B)



C)



D)



19. Bir çiçekçi 60 tane gülün $\frac{1}{4}$ 'ini 3 YTL'den, geri kalanını 5 YTL'den satıyor. Bu çiçekçi bütün gülleri 5 YTL'den satsaydı kaç YTL fazla kazanacaktı?

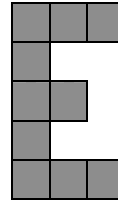
- A) 15 B) 30 C) 45 D) 60

20. Aşağıdaki geometrik şekillerden hangisi açısızdır?

- A) Kare
C) Çember

- B) Dikdörtgen
D) Üçgen

21.



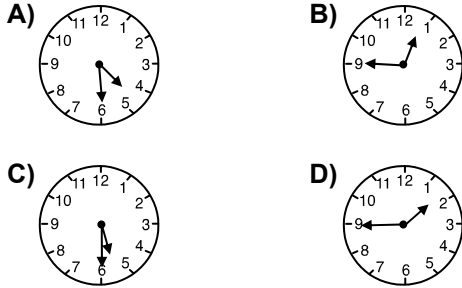
Yukarıdaki şekil eş karelerden oluşturulmuştur. Karelerden birinin, bir kenar uzunluğu 3 cm olduğuna göre, bu şeklin çevresi kaç cm'dir?

- A) 60 B) 63 C) 66 D) 69

22. Dikdörtgen şeklindeki masa örtüsünün kenar uzunlukları 80 cm ve 90 cm'dir. Bu masa örtüsü dikdörtgen şeklindeki bir masaya örtüldüğünde her bir kenarından 10 cm sarkıyor. Buna göre, masanın çevresinin uzunluğu kaç cm'dir?

- A) 260 B) 280 C) 300 D) 340

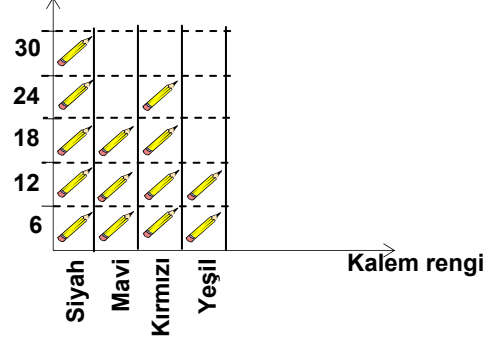
23. Nuray, ders çalışmaya başladığında akrep 3'ü, yelkovan 12'yi göstermektedir. Nuray, 1 saat 30 dakika sonra ders çalışmayı bitirdiğinde saat kaçı gösterir?



24. Günde 12 bardak su içen Beril, iki haftada kaç bardak su içer?

A) 120 B) 144 C) 148 D) 168

Kalem sayısı



(Not: Her şekil 6 kalemi göstermektedir.)

Yukarıdaki grafik, bir sınıfın öğrencilerine dağıtılan kalemlerin renklerini ve sayılarını göstermektedir. Sınıftaki her öğrenciye 4 kalem dağıtılmış ve hiç kalem artmamıştır. Buna göre bu sınıf kaç kişidir?

A) 84 B) 64 C) 32 D) 21

MATEMATİK TESTİ BİTTİ.
HAYAT BİLGİSİ TESTİNE GEÇİNİZ.

1. Atatürk yaşasaydı, bugün kaç yaşında olacaktı?

- A) 124 B) 126 C) 128 D) 130

2. “Kimsenin fikrine ve vicdanına egemen olunamaz.” diyen Atatürk, aşağıdakilerden hangisine verdiği önemi vurgulamak istemiştir?

- A) Düşünce hürriyetine
B) Ekonomik bağımsızlığa
C) Mülkiyet edinme özgürlüğüne
D) Özel yaşamın gizliliğine

3. “Atatürk, 19 Mayıs’da’a çıktı.”

Verilen cümlede boş bırakılan yerlere, aşağıdaki ifadelerden hangisi getirilirse doğru bir bilgi olur?

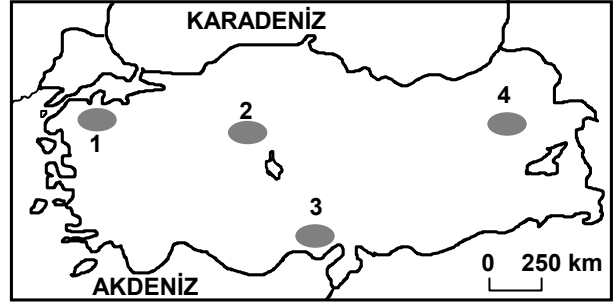
- A) 1910 - Erzurum B) 1916 - Trabzon
C) 1919 - Samsun D) 1919 - İstanbul

4. İstiklal Marşı, aşağıdaki tarihlerin hangisinde millî marşımız olarak kabul edilmiştir?

- A) 19 Mayıs 1919 B) 23 Nisan 1920
C) 12 Mart 1921 D) 29 Ekim 1923

5. “Atatürk ilke ve inkılaplarını öğrenmeli ve uygulamalıyız. Millî değerlerimize sahip çıkmalıyız. İç ve dış düşmanlara karşı uyanık olmalıyız.” diyen biri, öncelikle aşağıdakilerden hangisini korumayı ve güçlendirmeyi amaçlamış olabilir?

- A) Türk ordusunu B) Doğayı
C) Millî ekonomiyi D) Cumhuriyeti



Anıtkabir, yukarıdaki haritada numaralandırılarak gösterilen taralı alanlardan hangisinde yer alır?

- A) 1 B) 2 C) 3 D) 4

7.

Şehirler	Günler		
	Pazartesi	Salı	Çarşamba
Ankara			
Bitlis			
Konya			

→ Bulutlu

→ Güneşli

→ Yağışlı

→ Rüzgârlı

→ Parçalı bulutlu

Yukarıdaki tablo incelendiğinde bu şehirlerin hava durumu ile ilgili olarak aşağıda verilenlerden hangisi doğrudur?

- A) Salı günü hava Ankara’da güneşlidir.
B) Çarşamba günü Bitlis’te hava rüzgârlıdır.
C) Konya’da hava pazartesi günü bulutludur.
D) Salı günü üç şehrimizde de hava yağışlıdır.

6.

8. Yılın beşinci ve dokuzuncu ayları aşağıdakilerden hangisidir?

- A) Nisan - Ağustos B) Mayıs - Kasım
C) Mart - Ekim D) Mayıs - Eylül

9. Okula güvenli gidip - gelmek için aşağıdakilerden hangilerini yapmalıyız?





- I- Yaya geçitlerini kullanmalıyız.
II- Trafik işaret ve levhalarına uymalıyız.
III- Okul geçitlerini kullanmalıyız.

- A) Yalnız I B) Yalnız III
C) I ve II D) I, II ve III


10. Aşağıdakilerden hangisi en kalıcı öğrenmedir?

- A) Yaparak - yaşayarak
B) Görerek
C) Duyarak
D) Okuyarak

11. Aşağıdaki afişlerden hangisi enerji kaynaklarının tasarrufu amacına yönelik yazılmamıştır?

- A)  B) 
C)  D) 

12.



Yukarıdaki deniz taşıtlarının geçmişten günümüze doğru sıralanışı hangisinde verilmiştir?

- A) I - II - III B) III - II - I
C) I - III - II D) III - I - II

13. I- Ne yapacağına karar verme
II- Plan yapma
III- Malzeme ve araç toplama

Geleceğin teknolojik bir ürününü tasarlamak ve örnek çalışma yapmak isteyen Oğuz, yukarıdaki adımlardan hangilerini takip etmelidir?

- A) Yalnız I B) Yalnız II
C) II ve III D) I, II ve III

14. Aşağıdakilerden hangisi yanlıştır?

- A) Bir yıl 12 aydır.
B) Bir yıl 54 haftadır.
C) Bir yılda dört mevsim vardır.
D) Bir yıl 365 gün 6 saattir.

15. Elimizden geldiğince çevremizde ihtiyacı olanlara maddi ve manevi yardımda bulunmamız, aşağıdakilerden hangisine örnek olur?

- A) Özgür düşünmeye B) Sosyal dayanışmaya
C) Haklara saygıya D) Yasalara uymaya

16. I- Kızarım, yumruğumu sıkarım
II- İçimden 10'a kadar sayarım
III- Oradan uzaklaşıyorum
IV- Ayaktaysam otururum
V- Bağırırım

Öfkemizle baş edebilmek için yukarıdaki yöntemlerden hangilerini kullanabiliriz?

- A) I, II ve III B) I, IV ve V
C) II, III ve IV D) III, IV ve V

17. Bir toplumda bireyler, sevinç ve üzüntülerini paylaşıyor, ihtiyacı olanlara maddi ve manevi yardımda bulunuyorsa, o toplumda aşağıdakilerden hangisi görülmez?

- A) Bireylerin görev ve sorumluluklarını yerine getirdiği
- B) Toplumsal ilişkilerin güçlü olduğu
- C) Sosyal dayanışmanın zayıf olduğu
- D) Toplumsal huzurun sağlandığı

18. Hak ve hürriyetlerimizi kullanırken dikkat etmemiz gereken öncelik aşağıdakilerden hangisidir?

- A) Hak ve özgürlükleri istediğimiz gibi kullanmak
- B) Gelenek ve göreneklerimize bağlı olmak
- C) Hak ve özgürlüklerimizi kullanırken başkalarına saygılı olmak
- D) Özgürlüğümüzü her şeyin üstünde tutmak

19. Devlet, hak ve hürriyetlerimizi kanunlarla korur ve haklarımızı çiğneyenlere verilecek cezayı kanunlarla belirler.

Buna göre haklarımız çiğnendiğinde aşağıdakilerden hangisini yapmamız doğrudur?

- A) Haklarımızın çiğnenmesine sessiz kalmamız
- B) Yargı organlarına başvurmamız
- C) Bizim de başkalarının haklarını çiğnememiz
- D) Haklarımızı çiğneyenlere cezasını vermemiz

20. Aşağıdakilerden hangileri evsel atıklardandır?

- I- Metal konserve kutusu
- II- Taze ekmek parçaları
- III- Kullanılmış pil

- A) Yalnız I
- B) I - III
- C) II - III
- D) I - II - III

21.



Yukarıdaki resimleri inceleyen Serap, resimlerdeki çocukları eleştirmiştir.

Buna göre, Serap ne söylemiş olabilir?

- A) Kaynaklarımızı tutumlu kullanmalıyız.
- B) Sağlıklı yaşamak için su gereklidir.
- C) Kişisel bakımımızı her gün yapmalıyız.
- D) Akşam derse zaman ayırmalıyız.

22. Aslı, sabah saatin ziliyle uyandı. Fırından yeni çıkmış çöreklerin kokusunu hemen aldı. Elini yüzünü yıkadığında üşüdüğünü hissetti.

Aslı, çevresiyle iletişim kurarken öncelikle hangi duyusunu kullanmıştır?


- A) Görme
- B) Koklama
- C) İşitme
- D) Dokunma

23. Zeynep, düzenli ve dengeli beslenmektedir. Buna göre Zeynep öğle yemeğinde, kaç numaralı kısımdaki besinlerden daha fazla tüketmiş olabilir?

1	2	3	4
Makarna	Çorba	Süt	Baklava
Hamburger	Pırasa yemeği	Çay	Yoğurt
Kola	Salata	Bisküvi	Ekmek
Gazoz	Elma	Pasta	Çikolata

- A) 1
- B) 2
- C) 3
- D) 4

24.



Karanlık oda


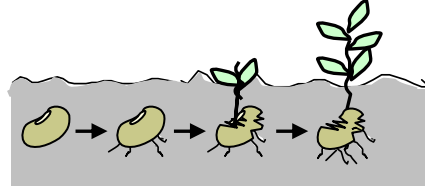
Güneş ışığı
alan oda

Metin, suladığı fasulye bitkilerinden birini yukarıdaki gibi karanlık, diğerini ise güneş ışığı alan odada iki hafta bekletiyor.

Odaların sıcaklıkları aynı olduğuna göre Metin hangi konuyu araştırmaktadır?

- A) Bitki susuz yaşar mı?
- B) Bitki hava alır mı?
- C) Bitki hareket eder mi?
- D) Bitki için ışık gerekli mi?

25.



Yukarıdaki şekillerle ilgili olarak aşağıdaki-lerden hangisi söylenebilir?

- A) Canlılar yaşama sürecinde belli aşamalardan geçerler.
- B) Bitkiler ve insanlar aynı sürede olgunlaşırlar.
- C) Canlılar küçükken anne babasına benzerler.
- D) Bitkiler insanlardan daha kısa süre yaşarlar.

TEST BİTTİ.
CEVAPLARINIZI KONTROL EDİNİZ.

Soracağınız bir şey var mı? Varsa şimdi sorunuz; sınav başladıktan sonra sorularınıza cevap verilmeyecektir. Hazır mısınız?

Sınav, okulun bütün salonlarında aynı anda başlayacağı için başlama zilini beraberce bekleyelim. Hepinize başarılar dileriz.

(Salon başkanı başlama ve bitiş saatini tahtaya yazacaktır.)

Bu testin her hakkı saklıdır. Hangi amaçla olursa olsun, testlerin tamamının veya bir kısmının Millî Eğitim Bakanlığı Eğitim Teknolojileri Genel Müdürlüğünün yazılı izni olmadan kopya edilmesi, fotoğraflarının çekilmesi, bilgisayar ortamına alınması, herhangi bir yolla çoğaltılması, yayımlanması veya başka bir amaçla kullanılması yasaktır. Bu yasağa uymayanlar, doğabilecek cezai sorumluluğu ve testlerin hazırlanmasındaki malî külfeti peşinen kabullenmiş sayılır.

CEVAP ANAHTARI

<u>TÜRKÇE TESTİ</u>	<u>MATEMATİK TESTİ</u>	<u>HAYAT BİLGİSİ TESTİ</u>
1. D	1. D	1. B
2. C	2. C	2. A
3. B	3. A	3. C
4. D	4. B	4. C
5. A	5. B	5. D
6. B	6. C	6. B
7. C	7. C	7. C
8. D	8. B	8. D
9. D	9. B	9. D
10. A	10. D	10. A
11. C	11. A	11. B
12. A	12. C	12. C
13. A	13. D	13. D
14. C	14. A	14. B
15. D	15. A	15. B
16. B	16. D	16. C
17. D	17. B	17. C
18. A	18. C	18. C
19. C	19. B	19. B
20. A	20. C	20. B
21. C	21. C	21. A
22. B	22. A	22. C
23. C	23. A	23. B
24. B	24. D	24. D
25. B	25. D	25. A